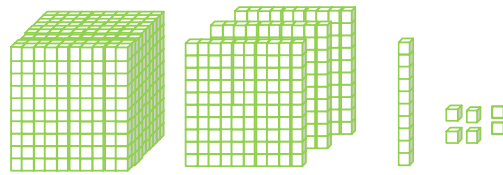
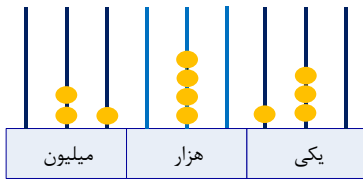


۱- هر یک از اعداد زیر را به حروف بنویسید.



..... به حروف:

..... به حروف:

۲۵۱۰۳۰۱۴

$۳۰۰۰۰۰۰ + ۸۰۰۰ + ۵۰۰ + ۹ = \dots\dots\dots$

..... به حروف:

..... به حروف:

۲- ارزش پول‌های زیر را به ریال و تومان بنویسید.



ریال .....

ریال .....

ریال .....

تومان .....

تومان .....

تومان .....

۳- عددهای داده شده به کدام عدد نزدیک تر است؟ آن را رنگ کنید.



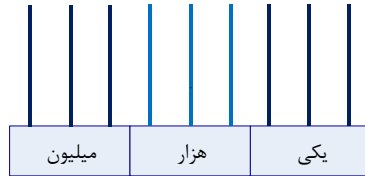
۴- تعداد دانش آموزان ۳ شهر به ترتیب ۲۵۹۴۰ نفر، ۶۰۳۱۲ نفر و ۱۲۸۴۰ نفر است. این سه شهر در مجموع چند دانش آموز دارند؟

۵- در جای خالی علامت مناسب (<=>) بگذارید.

۳۸۰۰۴۷  ۴۵۷۸۲۳      ۲۱۷۶۵  ۹۴۶۵      ۴۰۳۷۵  ۴۰۳۷۵

۶- عددهای زیر را در جدول ارزش مکانی و روی چرتکه نشان دهید.

۲۵۳۰۰۰۰۰۰



میلیون			هزار					
صدگان	دهگان	یکان	صدگان	دهگان	یکان	صدگان	دهگان	یکان

۷۸۵۵۶۲۳۶



میلیون			هزار					
صدگان	دهگان	یکان	صدگان	دهگان	یکان	صدگان	دهگان	یکان

۷- برای هر شکل قیمت تقریبی را بنویسید.



۸- جدول زیر، مربوط به تعداد دانش آموزان ابتدایی چند شهر می باشد، با استفاده از ماشین حساب، آن را کامل کنید و به سوالهای زیر پاسخ دهید.

شهر	تعداد دانش آموزان ابتدایی پسر	تعداد دانش آموزان ابتدایی دختر	تعداد کل دانش آموزان ابتدایی
اصفهان	۱۸۵۵۱۶	۱۷۳۴۵۷	
تهران	۵۱۶۱۸۵	۴۹۵۲۰۱	
سمنان	۸۴۲۵۰	۷۶۵۲۰	

الف) تعداد دانش آموزان ابتدایی پسر در کدام شهر بیشتر است؟

ب) تعداد کل دانش آموزان کدام شهر از همه کم تر است؟

ج) تعداد دانش آموزان ابتدایی پسر در کدام شهر، بین دو شهر دیگر است؟

د) تعداد دانش آموزان ابتدایی دختر در کدام شهر از همه کم تر است؟